

培智学校义务教育实验教科书【生活数学】六年级上册



100以内的加减法（二）

● 两位数与一位数的不退位减法（第6学时）





教学目标：


1. 熟练掌握列竖式计算100以内两位数与一位数的不退位减法的方法。
2. 经历运用数学知识解决简单实际问题的过程，培养应用意识和解决问题的能力。



教学重、难点：

熟练掌握列竖式计算100以内两位数与一位数的不退位减法的方法。

24人



解决问题

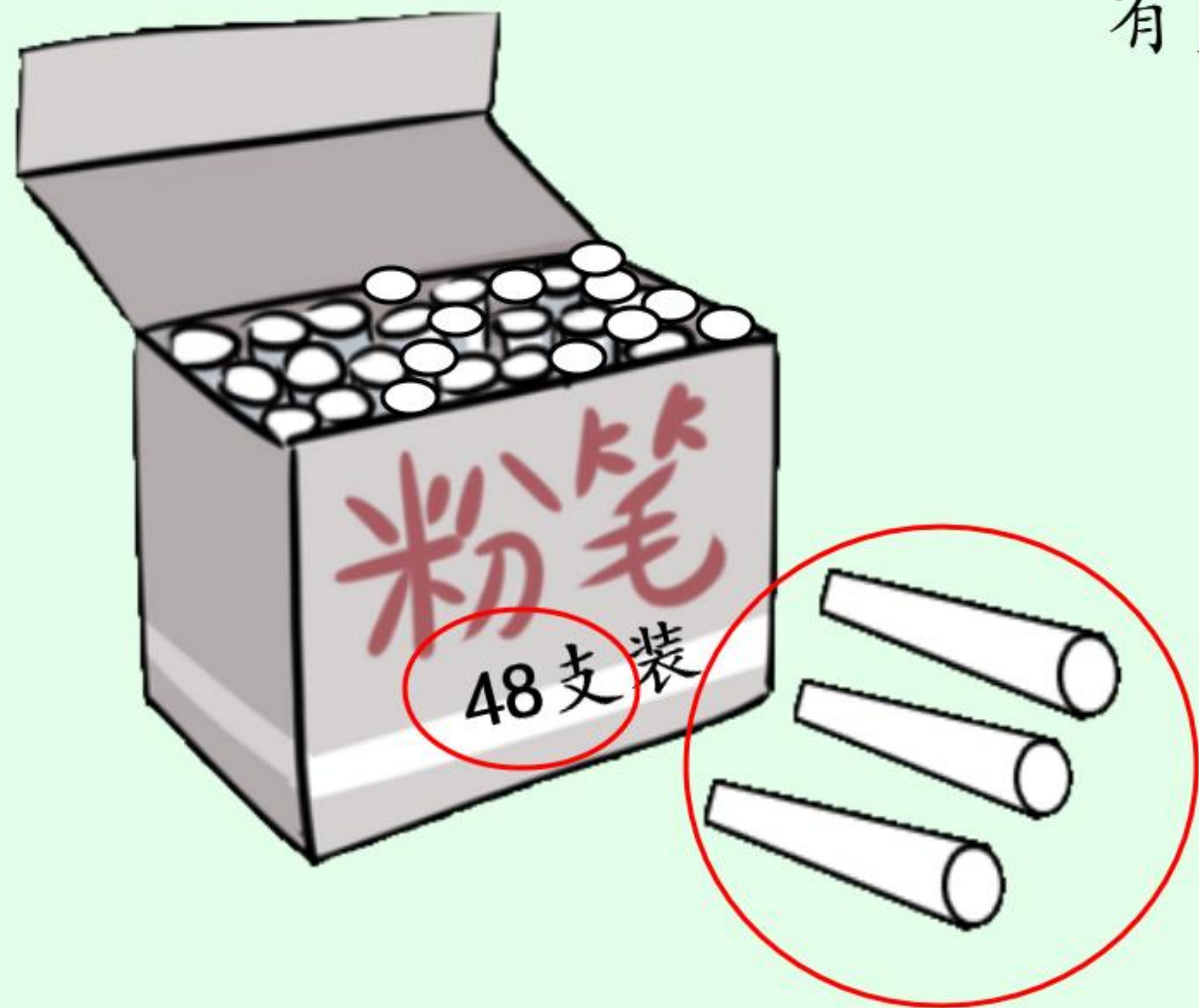
操场上有24名同学在做操，走了2人，
现在操场上还有多少名同学？

$$\boxed{24} - \boxed{2} = \boxed{22}$$

$$\begin{array}{r} \boxed{2} \boxed{4} \\ - \quad \boxed{2} \\ \hline \boxed{2} \boxed{2} \end{array}$$


解决问题

盒里有48支粉笔，拿走了3支，现在盒里还有多少支粉笔？



$$\boxed{48} - \boxed{3} = \boxed{45}$$

$$\begin{array}{r} 48 \\ - 3 \\ \hline 45 \end{array}$$



试一试

$$49 - 7 = 42$$

十 个
4 9

- 7

4 2

$$95 - 3 = \square$$

小结

两位数与一位数的不退位减法的方法



$$43 - 2 = \boxed{41}$$

Diagram illustrating the decomposition of 43 into 40 and 3. A red arrow points from the 3 to a 1, indicating the subtraction of 2 from 3 to get 1.

先算: $3 - 2 = 1$

再算: $40 + 1 = 41$

$$35 - 4 = \boxed{31}$$
$$\begin{array}{r} 35 \\ - 4 \\ \hline 31 \end{array}$$

再 见!